

## UZLY

Hodnocení – chybná odpověď/ 10 sekund

praktický úkol – jeden z hlídky uvázat jakýkoliv z předložených uzlů

Obrázek č. 1



Jedná se o uzel zvaný:

- a) Francouzský prusík
- b) rybářská spojka
- c) zkracovačka


Obrázek č. 2



Jedná se o uzel zvaný:

- a) osmičková spojka
- b) dračí smyčka
- c) prusíkův uzel symetrický

Obrázek č. 3



Jedná se o uzel zvaný:

- a) škotová spojka (tkalcovský uzel)
- b) vildcovský uzel
- c) plochá spojka, ambulanční uzel


Obrázek č. 4



Jedná se o uzel zvaný:

- a) vildcovský uzel
- b) zkracovačka
- c) dřevařská smyčka

Obrázek č. 5



Jedná se o uzel zvaný:

- a) Dračí smyčka
- b) dřevařská spojka
- c) zkracovačka


Obrázek č. 6



Jedná se o uzel zvaný:

- a) osmičková spojka
- b) Dřevařská smyčka
- c) francouzský prusík


Obrázek č. 7



Jedná se o uzel zvaný:

- a) rybářská spojka
- b) očková spojka
- c) osmičková spojka

Obrázek č. 8



Jedná se o uzel zvaný:

- a) liščí spojka
- b) loďní uzel uvázaný kolem kůlu
- c) očková spojka