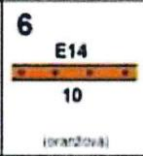

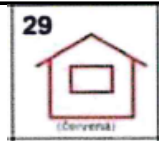
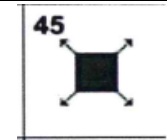








TOPOGRAFICKÉ ZNAČKY

chybná odpověď - 10 sekund

praktický úkol - orientace v mapě: 10 sekund

1.		
	a) řeka s mostem	
	b) dálnice	
	c) silnice I. třídy	
2.		
	a) meteorologická stanice	
	b) kaple	
	c) větrný mlýn	
3.		
	a) ubytovna	
	b) hraniční přechod	
	c) elektrárny	
4.		
	a) chmelnice	
	b) restaurace	
	c) elektrárny	
5.		
	a) hájovna, myslivna	
	b) továrna s komínem	
	c) porosty křoví	
6.		
	a) veřejné koupaliště	
	b) kulturně pohoruhodné místo	
	c) pramen	

7.		27  (červená)
	a) autokempink	
	b) chmelnice	
	c) hraniční přechod pro pěší a cyklisty	
8.		18  (červená)
	a) pomník	
	b) veřejné tábořiště	
	c) větrný mlýn	
9.		9  (modrá)
	a) řeka s jezem	
	b) trasa vodní dopravy	
	c) pěšina	
10.		39  (zelená)
	a) porosty křoví	
	b) studna	
	c) hranice CHKO	